

**Hola:**

**En esta actividad resolveremos  
unos problemas sencillos de suma.+**

**\*observa el ejemplo y realiza los  
ejercicios\***

**Les mando muchos saludos.**



E  
J  
E  
M  
P  
L  
O  
:

EN EL PARQUE HAY 3 NIÑOS JUGANDO Y LLEGAN 4 NIÑOS MÁS  
¿CUÁNTOS NIÑOS HAY AHORA EN EL PARQUE?



HAY 3 NIÑOS

LLEGAN 4 NIÑOS MÁS




$$\boxed{3} + \boxed{4} = \boxed{7}$$



EN TOTAL, HAY \_\_\_\_\_ NIÑOS EN EL PARQUE.

EN LA MESA HAY **3 VASOS** Y TOMÁS PONE **2 VASOS MÁS**.  
¿CUÁNTOS VASOS HAY AHORA EN LA MESA?



DATOS

HAY \_\_\_\_\_ VASOS

TOMÁS PONE \_\_\_\_\_ VASOS MÁS




OPERACION



RESPUESTA

EN TOTAL, HAY \_\_\_\_\_ VASOS EN LA MESA.

PABLO TIENE **5 LIBROS** Y SU HERMANA MARÍA TIENE **2 LIBROS**.  
¿CUÁNTOS LIBROS TIENEN LOS DOS JUNTOS?



PABLO TIENE \_\_\_\_\_ LIBROS

MARÍA TIENE \_\_\_\_\_ LIBROS




○  =



EN TOTAL, TIENEN \_\_\_\_\_ LIBROS ENTRE LOS DOS.

EN UN JARRÓN HAY **3 FLORES** Y MI MADRE PONE **1 FLOR MÁS.**  
¿CUÁNTAS FLORES HAY AHORA EN EL JARRÓN?



EN EL JARRÓN HAY \_\_\_\_\_ FLORES

MI MADRE PONE \_\_\_\_\_ FLOR EN EL JARRÓN




=



AHORA HAY \_\_\_\_\_ FLORES EN EL JARRÓN.

JAVIER TIENE 7 CAMELOS Y SU ABUELA LE DA 4 CAMELOS MS.  
CUNTOS CAMELOS TIENE AHORA JAVIER?



JAVIER TIENE \_\_\_\_\_ CAMELOS

SU ABUELA LE DA \_\_\_\_\_ CAMELOS



=



AHORA JAVIER TIENE \_\_\_\_\_ CAMELOS.